


1. Narysuj gwiazdki do działań według wzoru.

		
---	--	--

$2 \cdot 5 = \square$

$2 \cdot 4 = \square$

$2 \cdot 6 = \square$

--	--	--

$4 \cdot 5 = \square$

$5 \cdot 4 = \square$

$5 \cdot 6 = \square$

2. Janek zrobił 6 ozdób na choinkę. Ania miała więcej czasu i zrobiła 3 razy więcej ozdób od Janka. Oblicz, ile ich zrobiła.

--

Odp.

3. Oblicz i porównaj. Wpisz wyniki i znaki:  $>$ ,  $<$  lub  $=$ .

$6 \cdot 2 \dots 13$

$9 \cdot 2 \dots 25$

$3 \cdot 7 \dots 19$

$16 \dots 4 \cdot 5$

$6 \cdot 4 \dots 24$

$35 \dots 3 \cdot 8$



4. Zastanów się, ile brakuje do pełnej liczby: 10, 20, 30, 40...

$6 + \square = 10$

$5 + \square = 30$

$4 + \square = 40$

$3 + \square = 60$

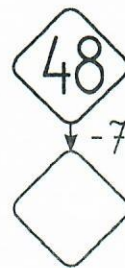
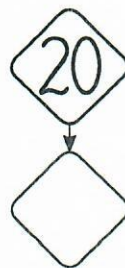
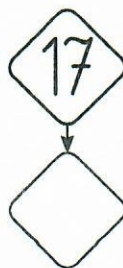
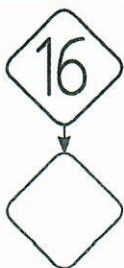
$9 + \square = 20$

$7 + \square = 20$

$8 + \square = 50$

$2 + \square = 70$

5. W okienkach niżej wpisz liczby o 7 mniejsze.



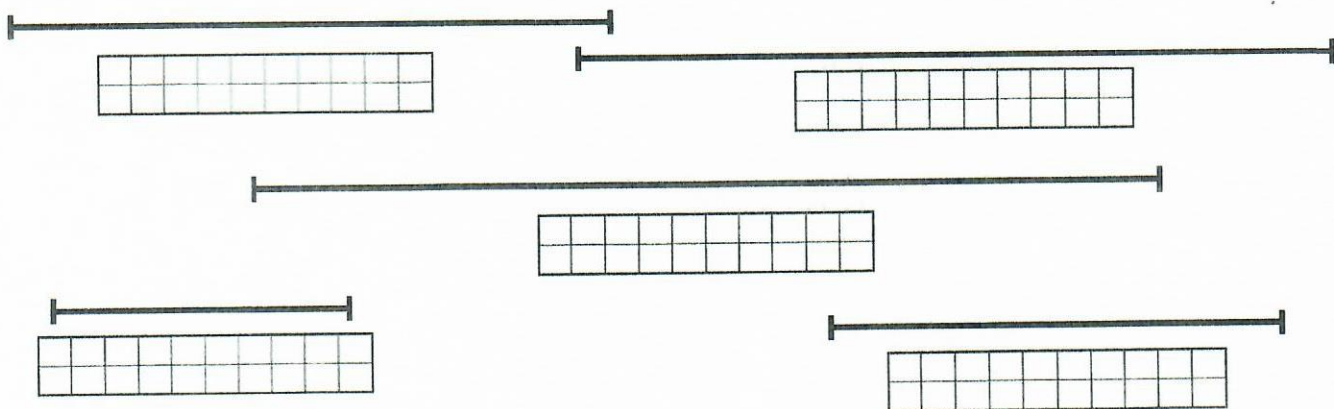




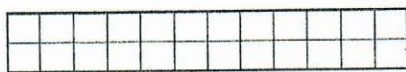
1. Narysuj kolejno coraz większe kółka – tyle, ile się zmieści. Najmniejsze pomaluj na fioletowo, a największe na różowo.



2. Zmierz podane odcinki i wpisz ich długość w centymetrach.

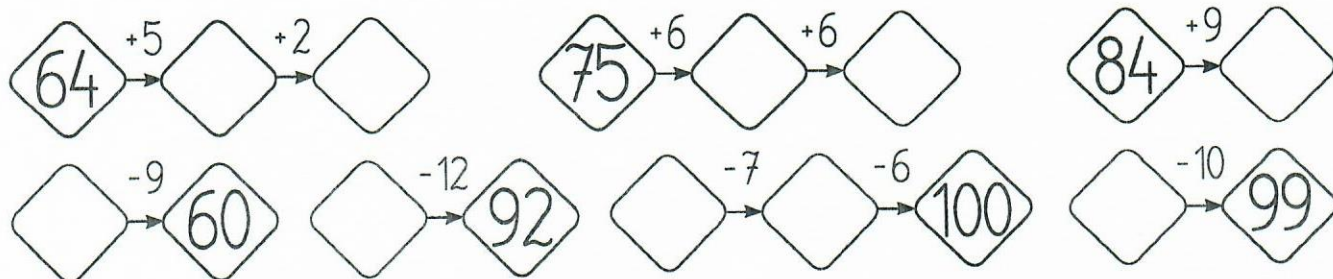


3. Na spódnicę potrzeba 2 m tkaniny. Ile potrzeba tej tkaniny, aby uszyć 9 spódnic? Oblicz i wpisz odpowiedź.



Odp.

4. Oblicz.



5. Oblicz i wpisz prawidłowe sumy.

$$55 \text{ cm} + 7 \text{ cm} = \boxed{\phantom{0000}}$$

$$42 \text{ m} + 9 \text{ m} = \boxed{\phantom{0000}}$$

$$63 \text{ cm} + 8 \text{ cm} = \boxed{\phantom{0000}}$$

$$29 \text{ m} + 7 \text{ m} = \boxed{\phantom{0000}}$$

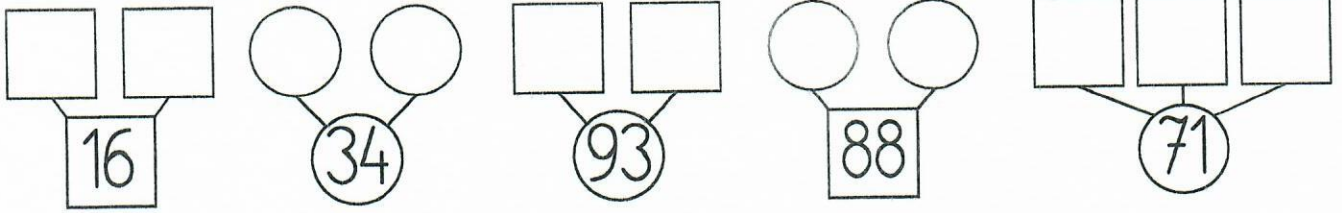
$$48 \text{ cm} + 9 \text{ cm} = \boxed{\phantom{0000}}$$

$$75 \text{ m} + 8 \text{ m} = \boxed{\phantom{0000}}$$

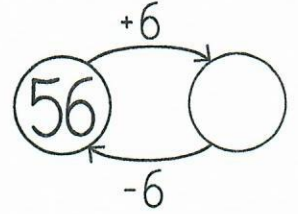
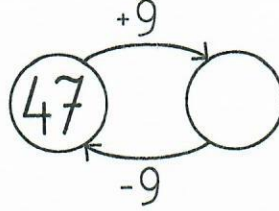
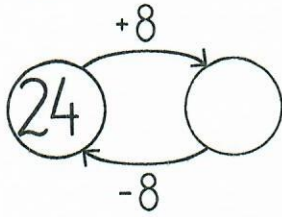
$$37 \text{ cm} + 6 \text{ cm} = \boxed{\phantom{0000}}$$

$$84 \text{ m} + 6 \text{ m} = \boxed{\phantom{0000}}$$

1. Wpisz w okienka działania na dodawanie lub odejmowanie tak, aby wynikami były podane liczby.



2. Oblicz działania na grafach.



3. Oblicz działania w tabelkach.

+	9	11	14	16	20
6					
8					
7					

-5	16	23	25	34	46	77	82	98
-4								

4. Narysuj 6 kwadratów różnej wielkości.



5. Za pomocą strzałek połącz działania z wynikami.

$66 + 4 =$

$25 + 25 =$

$44 + 44 =$

80

$53 + 7 =$

$33 + 33 =$

$92 + 8 =$

66

$77 + 3 =$

$24 + 26 =$

50

70

88

100

60





☺ Ufóž zadania z rozsypanek wyrazowych i napisz je starannie.

biała jesieni Po przyszła złotej zima.

gałzki śniezek przykrył drzew. Delikatny

pożywienia. ptaszki szukają Zziębnięte

☺ Przeczytaj uważnie początek każdego zdania oraz propozycje jego dokończenia. Wybierz i podkreśl odpowiednią.

Bałwanowi  
włóžę na głowę

dziurawy garnek.  
miskę z gorącą wodą.

Zimq zakładam

cieple ubranie.  
strój kąpielowy.

Gdy jest gorąco piję

gorące mleko z miodem.  
napoje chłodzące.


Mikołaj przyniósł mi

rachunek za wodę.  
wymarzony prezent.

W czasie ferii zimowych

pojadę do babci.  
uczę się w szkole.

☺ Narysuj bałwana. Zbierz słownictwo opisujące jego wygląd.



kule  
(jakie?)

garnek  
(jaki?)

węgielki  
(jakie?)

marchewka  
(jaka?)

miotła  
(jaka?)





☺ Podkreśl tym samym kolorem wyrazy należące do tej samej rodziny. Przepisz wyrazy.

góry                      morze                      góralka  
górzysty                morska                    pagórek  
nadmorski

---

---

---

---

---

---

---

---

☺ Rozwiń zadania i napisz je starannie.

**Morze szumi.**

\_\_\_\_\_

\_\_\_\_\_

\_\_\_\_\_

\_\_\_\_\_

\_\_\_\_\_

\_\_\_\_\_

\_\_\_\_\_

\_\_\_\_\_

**Góral pasie.**

\_\_\_\_\_

\_\_\_\_\_

\_\_\_\_\_

\_\_\_\_\_

\_\_\_\_\_

\_\_\_\_\_

\_\_\_\_\_

\_\_\_\_\_

☺ Ułóż zdania z rozsypanek wyrazowych i napisz je starannie.

dzień:                      Dzisiaj                      wietrzny                      był

końcem                      Powietrze                      lata.                      pachniało

na                      się                      placu.                      Drugoklasiści                      bawili

Grzesiowi.                      zabrał                      czapkę                      wietrzyk                      Psotny

☺ Przeczytaj uważnie wszystkie wyrazy. Dopisz do nich po dwa wyrazy pokrewne.

wiatr – \_\_\_\_\_

lato – \_\_\_\_\_

zabawa – \_\_\_\_\_